

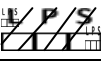











Le mali, un PMA aux fortes inégalités régionales

A l'aide des documents des cartes projetées

Complète la légende ci-dessous.

1. A partir des cartes du Mali, choisis les informations que tu souhaites faire figurer sur la carte
2. Trouve le type de figuré approprié
3. Choisi le figuré
4. Réalise la carte, trouve un titre et indique le Nord

	Choix de l'information	Choix du figuré	Figuré choisi
<u>Les principales contraintes au Mali</u>			
Contrainte liée à l'insécurité du pays	Région de Timétrine	L P S 	
Contrainte liée au climat	Désert	L P S 	
Importance du fleuve Niger	Fleuve Niger	L P S 	
<u>Les inégalités régionales au Mali</u>			
Les centres de la puissance	Villes	L P S 	
Les différences de densité de population	- Faible densité		
	- Moyenne densité		
	- Forte densité		
Un moyen de communication	(au choix)	L P S 	
<u>Le développement du Mali</u>			
Les échanges vers l'étranger	Exportations	L P S 	
L'exploitation de ressources minières	Mines	L P S 	
Un site touristique	(au choix)	L P S 	

Qu'as-tu voulu montrer en réalisant cette carte ?