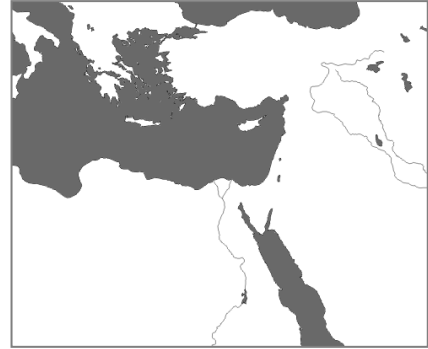


# Damas

دمشق



## 1. Situation de Damas

a- Situe par un point rouge Damas sur la carte ci-contre

## 2. Organisation de la ville

b- Quels sont les aménagements destinés à la défense de la ville ? .....

c- Quels sont les aménagements destinés au commerce ? .....

d- Quels sont les lieux de cultes (3 types) ? .....

e- Quels sont les aménagements destinés à la détente ? .....

f- (**maison**) Vous êtes un marchand qui découvre pour la première fois la ville. Décrivez la ville en incluant les éléments de réponse des questions ci-dessus :

## 3. La Grande Mosquée, histoire

g- D'après la vidéo, quels sont les étapes de la construction de la Mosquée (ajoute les n° 1-2-3 dans les carrés correspondants et à quoi cela correspond dans les rectangles) :



Ville s :



1er siècle :




IVème s

h- D'après le texte, qui a fait construire la mosquée ? .....

## 4. La Grande Mosquée, organisation

i- D'après le plan, complète la légende de la photographie ci contre



A :  
B :  
C (autour de la cour) :  
D (Dans la cour) :


## 5. La Grande Mosquée, les pratiques

j- D'après le texte et les photographies, complète la légende de la gravure ci-contre avec les termes suivants :

**imam, fidèles, minbar, mihrab, mur de la qibla, fontaine.**

## 6. La Grande Mosquée, les usagers

k- D'après le texte, quelles sont les autres utilisations de la mosquée :



1 :  
2 :  
3 :  
4 :  
5 :

- Restauration
- enseignement
- copie de livre
- rendez-vous
- hôpital
- délasserment
- promenade
- sport